



**higher education
& training**

Department:
Higher Education and Training
REPUBLIC OF SOUTH AFRICA

NASIONALE SERTIFIKAAT

KOSTE- EN BESTUURSREKENINGKUNDE N5

(4010185)

14 Oktober 2020 (X-vraestel)

09:00–12:00

Hierdie vraestel bestaan uit 11 bladsye en 'n antwoordboek van 12 bladsye.




248Q1B2014




DEPARTEMENT VAN HOËR ONDERWYS EN OPLEIDING
REPUBLIEK VAN SUID-AFRIKA
NASIONALE SERTIFIKAAT
KOSTE- EN BESTUURSREKENINGKUNDE N5
TYD: 3 UUR
PUNTE: 200




INSTRUKSIES EN INLIGTING

1. Beantwoord al die vrae.
 2. Lees al die vrae aandagtig deur.
 3. Nommer die antwoorde volgens die nommeringstelsel wat in hierdie vraestel gebruik is.
 4. Beantwoord die vrae in die ANTWOORDBOEK wat verskaf is.
 5. Gebruik slegs 'n swart of blou pen.
 6. Skryf netjies en leesbaar.
-


AFDELING A**VRAAG 1**

- 1.1 Verskeie opsies word as moontlike antwoorde op die volgende vrae gegee. Kies die antwoord en skryf slegs die letter (A–D) langs die vraagnommer (1.1.1–1.1.20) in die ANTWOORDBOEK neer.
- 1.1.1 Die koste wat aangegaan is om 'n bestelling van 'n klant te ontvang en die afgewerkte goedere aan die klant te lewer, staan as ... bekend.
- A verkoopskoste
 - B administrasiekoste 
 - C produksiekoste
 - D verkoops- en administrasiekoste
- 1.1.2 Die totale vaste koste ...
- A bly konstant selfs al verander die volume wat geproduseer word.
 - B verander wanneer die produksievlakke verander.
 - C is koste wat konstant verander.
 - D verander in verhouding tot die volumes wat geproduseer word.
- 1.1.3 Bestuursrekeningkunde gaan oor die voorsiening van inligting aan ...
- A mense wat nie deel van die maatskappy is nie.
 - B mense wat deel van die maatskappy is.
 - C krediteure.
 - D die regering. 
- 1.1.4 Finansiële rekeningkunde ...
- A verskaf inligting aan interne gebruikers.
 - B fokus op die departemente in die maatskappy.
 - C verskaf inligting aan eksterne gebruikers.
 - D verskaf inligting aan die maatskappy se werknemers.
- 1.1.5 Eiendomsbelasting en diensgeld wat aan munisipaliteite betaal word, word as ... beskou. 
- A primêre koste
 - B produksietydskoste
 - C vaste koste
 - D proseskosse


- 1.1.6 Die volgende formule word gebruik om die bestelpunt te bereken:
- A Bedrag van die voorraad wat nodig is minus neweprodukte.
 - B Maksimum produksiemateriaal plus vervaardigingsbokoste.
 - C Maksimum besteltyd maal die maksimum gebruik.
 - D Hoeveelheid materiaal benodig minus die hoeveelheid materiaal gebruik. 
- 1.1.7 Die EIEU-voorraadwaardasietegode ('FIFO method') beteken dat voorraad ...
- A wat eerste aangekoop is, laaste uitgereik word.
 - B wat eerste aangekoop is, eerste uitgereik word.
 - C teen die gemiddelde prys uitgereik word.
 - D teen kosprys uitgereik word.
- 1.1.8 Die oordra van afgewerkte goedere vanaf die fabriek word soos volg in die algemene grootboek aangeteken:
- A Debiteer afgewerkte-goedere-beheer en krediteer produksiekontroler.
 - B Debiteer koste van verkope en krediteer afgewerkte-goedere-beheer.
 - C Debiteer produksiekontroler en krediteer afgewerkte goedere. 
 - D Debiteer materiaalkontroler en krediteer afgewerkte goedere.
- 1.1.9 ... rekeningkunde plaas minder belang op akkuraatheid en meer op ander aspekte soos geldwaarde.
- A Interne
 - B Finansiële
 - C Koste-
 - D Bestuurs-
- 1.1.10 Primêre produksiekoste bestaan uit ...
- A direkte materiaal plus omsettingskoste.
 - B direkte materiaal plus direkte arbeidskoste.
 - C direkte arbeid plus omsettingskoste.
 - D direkte materiaal plus vervaardigingsbokoste.
- 1.1.11 Joel Designs is versoek om 'n tafel volgens 'n klant se spesifikasies te vervaardig. Die kosteberekening vir hierdie bestelling staan as ... kosteberekening bekend.
- A proses- 
 - B taak-
 - C primêre
 - D produk-

- 1.1.12 Die koste wat met inkomste op 'n tydperk basis vergelyk word, staan as ... bekend.
- A versonke koste 
 - B tyd koste
 - C veranderlike koste
 - D vaste koste
- 1.1.13 Produksiekoste is ...
- A die koste wat by die vervaardiging van 'n produk betrokke is.
 - B die toekomstige koste wat deur 'n besluit verander sal word.
 - C die koste wat met 'n gegewe rekeningkundige tydperk eerder as 'n bepaalde produk verband hou.
 - D daardie koste wat gespaar mag word deur 'n bepaalde alternatief nie te aanvaar nie.
- 1.1.14 Me Venter word volgens 'n stukloonstelsel betaal en haar lone word soos volg bereken:
- A Eenhede geproduseer maal die koers per eenheid
 - B Ure gewerk maal die koers per uur 
 - C Eenhede geproduseer maal die koers per uur
 - D Ure gewerk maal die koers per eenheid
- 1.1.15 Produktiwiteit is 'n belangrike element in die bestuur van 'n onderneming, maar tyd kan vir verskillende redes verlore gaan, soos masjiene wat breek, opeenhopings en 'n gebrek aan materiaal. Hierdie tyd staan as ... bekend.
- A Produksietyd
 - B oortyd
 - C staantyd
 - D onproduktiewe tyd
- 1.1.16 Huur van die fabriek word as ... beskou.
- A produkkoste
 - B veranderlike koste
 - C werklike vervaardigingsbokoste
 - D B en C
- 1.1.17 Die volgende maak deel van loonkontrole uit:
- A Beplanning 
 - B Leiding
 - C Organisasie
 - D Personeelrekords


1.1.18 Die algemene grootboek vir die aanteken van onderverhaling van vervaardigingsbokoste is:

- A Debiteer koste van verkope, krediteer vervaardigingsbokostekontrolerekening.
- B Debiteer vervaardigingsbokostekontrolerekening, krediteer koste van verkope.
- C Debiteer koste van verkope, krediteer afgewerkte-goedere-kontrolerekening.
- D Debiteer koste van verkope, krediteer voorraad (handelsvoorraad). 

1.1.19 Die algemene grootboek om die oorverhaling van vervaardigingsbokoste aan te teken is:



- A Debiteer koste van verkope, krediteer vervaardigingsbokostekontrolerekening.
- B Debiteer vervaardigingsbokostekontrolerekening, krediteer koste van verkope.
- C Debiteer koste van verkope, krediteer afgewerkte-goedere-kontrolerekening. 
- D Debiteer koste van verkope, krediteer voorraad (handelsvoorraad).

1.1.20 Onvoltooide werk is ...

- A werk waarmee daar nog nie begin is nie.
- B werk wat deur die argitek goedgekeur is.
- C werk wat nog nie voltooi is nie. 
- D voltooide werk.

(20 x 2) (40)

- 1.2 Kies 'n beskrywing uit KOLOM B om by 'n item in KOLOM A te pas. Skryf slegs die letter (A–G) langs die vraagnommer (1.2.1–1.2.5) in die ANTWOORDBOEK neer.

KOLOM A		KOLOM B	
1.2.1	Indirekte arbeid	A	produksiewerknewers se lone
1.2.2	Bestelpunt	B	verskaf inligting wat vir die maatskappy se aandeelhouders van belang is
1.2.3	Leiding 	C	is die stel van doelwitte en die planne om hierdie doelstellings en doelwitte te bereik
1.2.4	Omsettingskoste	D	voorraad moet 'n bepaalde punt bereik voordat 'n nuwe bestelling geplaas kan word
1.2.5	Direkte arbeid	E	produksiebestuurder se salaris
		F	die vaardigheid om mense te motiveer en beïnvloed om saam te werk
		G	direkte arbeid plus  vervaardigingsbokoste

(5 × 2)

(10)

- 1.3 Omskryf die volgende begrippe:

- 1.3.1 Buffervoorraad
- 1.3.2 Toegepaste vervaardigingsbokoste
- 1.3.3 Stukloonstelsel
- 1.3.4 Byvoordele 
- 1.3.5 Finansiële state

(5 × 2)

(10)

[60]**TOTAAL AFDELING A:****60**

AFDELING B**VRAAG 2**

- 2.1 Jy is die koste-en-bestuursrekenmeester van Huletts Vervaardigers en jy het die volgende inligting oor item LVT102 ontvang.

Sash Tree Bpk benodig per jaar 30 000 ton van die materiaal, LVT102, wat teen 'n konstante koers gebruik word. Die bergingskoste per liter is R10,00 per jaar, maar dit het onlangs met 15% toegeneem. Die bestelkoste per ton was R20, maar dit het met 20% toegeneem. Die maksimum besteltyd is 3 weke terwyl die minimum besteltyd 1 week is. Die maatskappy is 40 weke per jaar in bedryf.



Die maksimum verbruik is 2 500 ton per week en die minimum verbruik is 1 500 ton per week.

VERLANG (toon alle formules en berekeninge):

- 2.1.1 Bereken die bestelpunt (4)
- 2.1.2 Bereken die ekonomiese bestelhoeveelheid (9)
- 2.1.3 Bereken die maksimum voorraad (5)
- 2.2 Jakaranda Vervaardigers het tydens September vanjaar die volgende transaksies ten opsigte van voorraaditem, LL001, aangegaan:

01	Beginvoorraad voor hande was 'n totaal van 280 eenhede @ R18 elk
03	600 eenhede @ R10,00 is aangekoop
09	210 eenhede is na die fabriek oorgedra
12	900 eenhede @ R15,00 is aangekoop
15	200 eenhede is aan die fabriek uitgereik
19	800 eenhede is weens gebreke aan die verskaffer teruggestuur (dit is op 12 September ontvang)
25	100 eenhede is na die produksiedepartement oorgedra
30	230 eenhede @ R19,00 elk is aangekoop



VERLANG:


Bereken die waarde van materiaal LL001 deur die eerste-in-eerste-uit-metode te gebruik.

(Rond alle bedrae tot twee desimale plekke af.)




(20)
[38]

VRAAG 3


Die volgende is 'n uittreksel uit die weeklikse betaling van 'n werknemer, Mnr S Gumede, vir die week geëindig 24 Januarie 2020. 

Normale werksure per week:	40 uur
Ure gewerk:	46 uur
Eenhede geproduseer:	2 500
Normale loon per uur:	R150
Oortydkoers:	1½ maal gewone koers
Produksiebonus vir elke 100 eenhede geproduseer:	R100

Pensioenfonds:	
<ul style="list-style-type: none"> Die werkgewer dra 27,5% van sy bruto vergoeding by. Die werkgewer dra 50% van die werknemer se bydrae by. 	
Mediese fonds, werknemerbydrae:	
<ul style="list-style-type: none"> Die werknemer dra R500 tot sy mediese fonds by en sy werkgewer dra R2 by vir elke R1 wat die werknemer bydra. 	
Inkomstebelasting (LBS):	
<ul style="list-style-type: none"> 18% van die bruto loon nadat pensioen afgetrek is. 	
Mnr Gumede en sy werkgewer dra volgens wetgewing tot die WVF by.	



VERLANG (toon alle berekeninge):

- 3.1 Bereken Mnr S Gumede se netto loon vir die week geëindig 24 Januarie 2020. (23)
- 3.2 Bereken die werkgewer se bydrae tot die werknemer se mediese fonds. (3)
- 3.3 Bereken die werkgewer se bydrae tot die werknemer se WVF.  (3)
- 3.4 Bereken die werkgewer se bydrae tot die werknemer se pensioen. (3)
- [32]**

VRAAG 4

Die volgende verskyn in die boeke van Hand Trowel Vervaardigers:

Saldo's op 1 Januarie 2019	Rand
Grondstowwe	382 000
Onvoltooide werk	122 000
Afgewerkte goedere	328 000

Opsomming van transaksies vir die jaar geëindig 31 Desember 2019



	Rand
Grondstowwe op krediet gekoop	2 250 000
Grondstowwe aan die fabriek uitgereik	1 925 000
Vervoerkoste van aankope	453 000
Arbeid: direk	1 250 000
Arbeid: indirek	743 000
Huur: fabriek	845 000
Versekering: fabriek	960 000
Onderhoud op aanleg	320 000
Waardevermindering op aanleg	108 000
Koste van afgewerkte goedere verkoop	3 259 000
Verkope (afgewerkte goedere verkoop)	4 875 000
Eindsaldo van onvoltooide goedere op 31 Desember 2019	112 000

BYKOMENDE INLIGTING:

Vervaardigingsbokoste word teen 85% van direkte arbeidskoste toegeken.

VERLANG:

Stel die volgende algemene-grootboekrekeninge in die geïntegreerde rekeningkundige stelsel op:

- | | | | |
|-----|-------------------------------|---|------|
| 4.1 | Grondstofkontrole |  | (6) |
| 4.2 | Vervaardigingsbokostekontrole | | (10) |
| 4.3 | Produksiekontrole | | (8) |
| 4.4 | Afgewerkte-goedere-kontrole | | (5) |
| 4.5 | Koste van verkope |  | (4) |

[33]

VRAAG 5

- 5.1 Die volgende inligting verskyn in die boeke van Bargain Vervaardigers vir die jaar geëindig 30 November 2019:



Detail	Rand
Netto wins	543 000
Onvoltooide werk	40 000
Afgewerkte-goedere-voorraad	46 000
Handels- en ander krediteure (krediteurekontrole)	10 000
Kleinkas	8 000
SARS	41 000
Handels- en ander ontvangbare rekeninge (debiteurekontrole)	163 000
Bankrekening	89 000
Grond en geboue	1750 000
Toerusting	450 000
Voertuie	800 000
Trekkings	65 000
Langtermynlening	90 000
Kapitaal	2727 000

VERLANG:

Stel die staat van finansiële posisie (balansstaat) op van Bargain Vervaardigers soos op 30 November 2019.




(25)

- 5.2 Die kosterekenmeester van Tulip Vervaardigers het die volgende koste vir die jaar 2019 beraam:

Begrote vervaardigingsbokoste vir die jaar	3 420 000
Begrote eenhede	38 000 eenhede
Begrote direkte materiaalkoste per eenheid	R85,00
Begrote direkte arbeidskoste per eenheid	R145,00
Begrote arbeidsure per eenheid	6 uur
Begrote masjienure per eenheid	3 uur

VERLANG:

Bereken die volgende (toon alle formules en berekeninge):

- 5.2.1 Die bokostetoepassingskoers ('overhead application rate') deur die direkte arbeidsure as basis te gebruik (4)
- 5.2.2 Die bokostetoepassingskoers deur direkte arbeidskoste as basis te gebruik  (4)
- 5.2.3 Die bokostetoepassingskoers deur die begrote eenhede as basis te gebruik (4)

[37]

TOTAAL AFDELING B: 140
GROOTTOTAAL: 200