



**higher education  
& training**

Department:  
Higher Education and Training  
**REPUBLIC OF SOUTH AFRICA**

# **NASIENRIGLYN**

## **NATIONALE SERTIFIAAT PATROONKONSTRUKSIE N5**

**1 Junie 2021**

**Hierdie nasienriglyn bestaan uit 7 bladsye.**

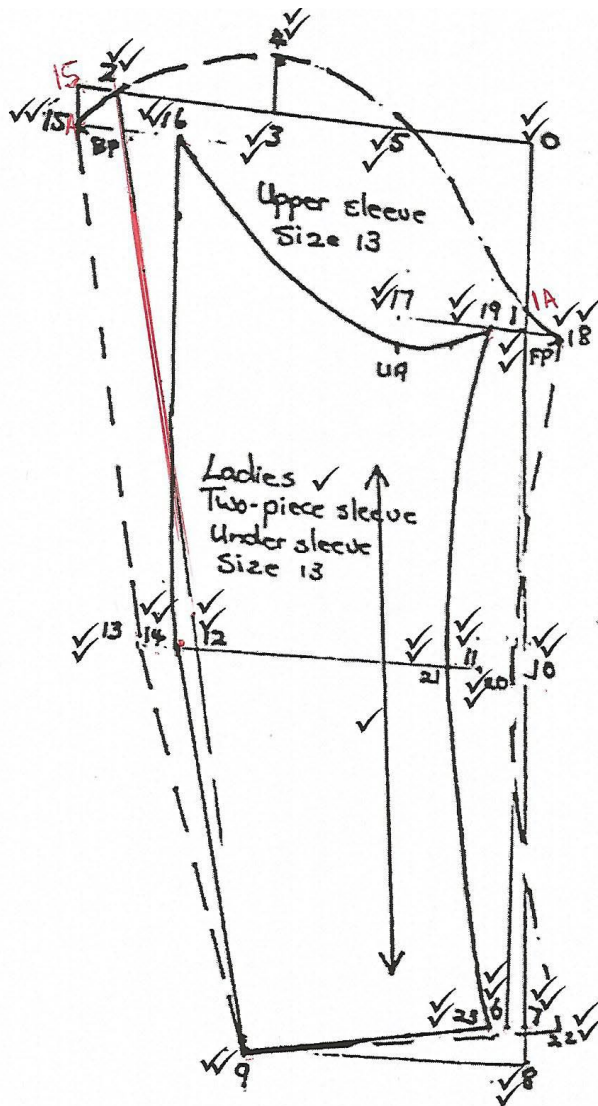
**AFDELING A****VRAAG 1**

1.1	1.1.1	C		
	1.1.2	B		
	1.1.3	D		
	1.1.4	A		
	1.1.5	B		
	1.1.6	C		
	1.1.7	A		
	1.1.8	B		
	1.1.9	A		
	1.1.10	C		
			(10 × 1)	(10)
1.2	1.2.1	I		
	1.2.2	F		
	1.2.3	B		
	1.2.4	K		
	1.2.5	D		
	1.2.6	A		
	1.2.7	H		
	1.2.8	E		
	1.2.9	J		
	1.2.10	G		
			(10 × 1)	(10)
1.3	1.3.1	1. Skouerwydte✓ Gemeet van die basis van die nek onder die oor na die skouerpunt✓✓		
		2. Om die nek✓ Meet naby dog gemaklik om die basis van die nek✓✓		
		3. Oor borskas✓ Geneem oor die borskas waar die arms aansluit by lyf✓✓		
		4. Om borskas✓ Asem in en meet bors wat uitsit. Neem 'n losselige mate om die wydste deel van die rug✓✓		
		5. Skouer tot pols✓ Meet van die skouerbeen se punt tot by die pols✓✓		
		6. Om die sitvlak✓ Neem 'n redelik naby mate om die volste deel van die figuur onder die middellyf✓✓		
		7. Oor rug✓ Geneem oor die skouerblaai tot waar arms by lyf aansluit✓✓		
		8. Agterste lengte/agternek tot middellyf✓ Van die agternek af tot middelrug tot die middellyflyn✓✓		
		9. Om middellyf✓ Meet naby dog gemaklik om die natuurlike middellyf✓✓		
		10. Middellyf na vloer/naat van buitebeen✓ Meet aan die kant van die figuur van die middellyflyn tot vloer✓✓	(10 × 3)	(30)

**[50]****TOTAAL AFDELING B: 50**

AFDELING B

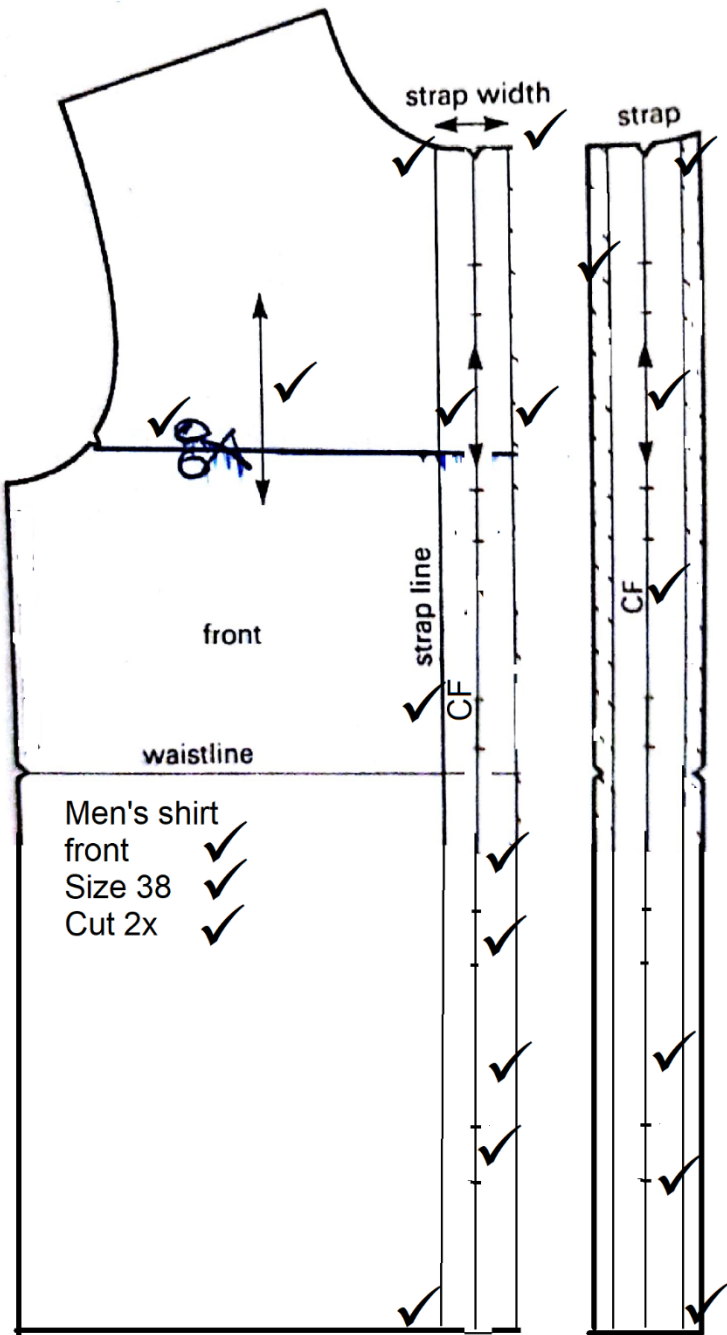
VRAAG 2



[50]

VRAAG 3

3.1



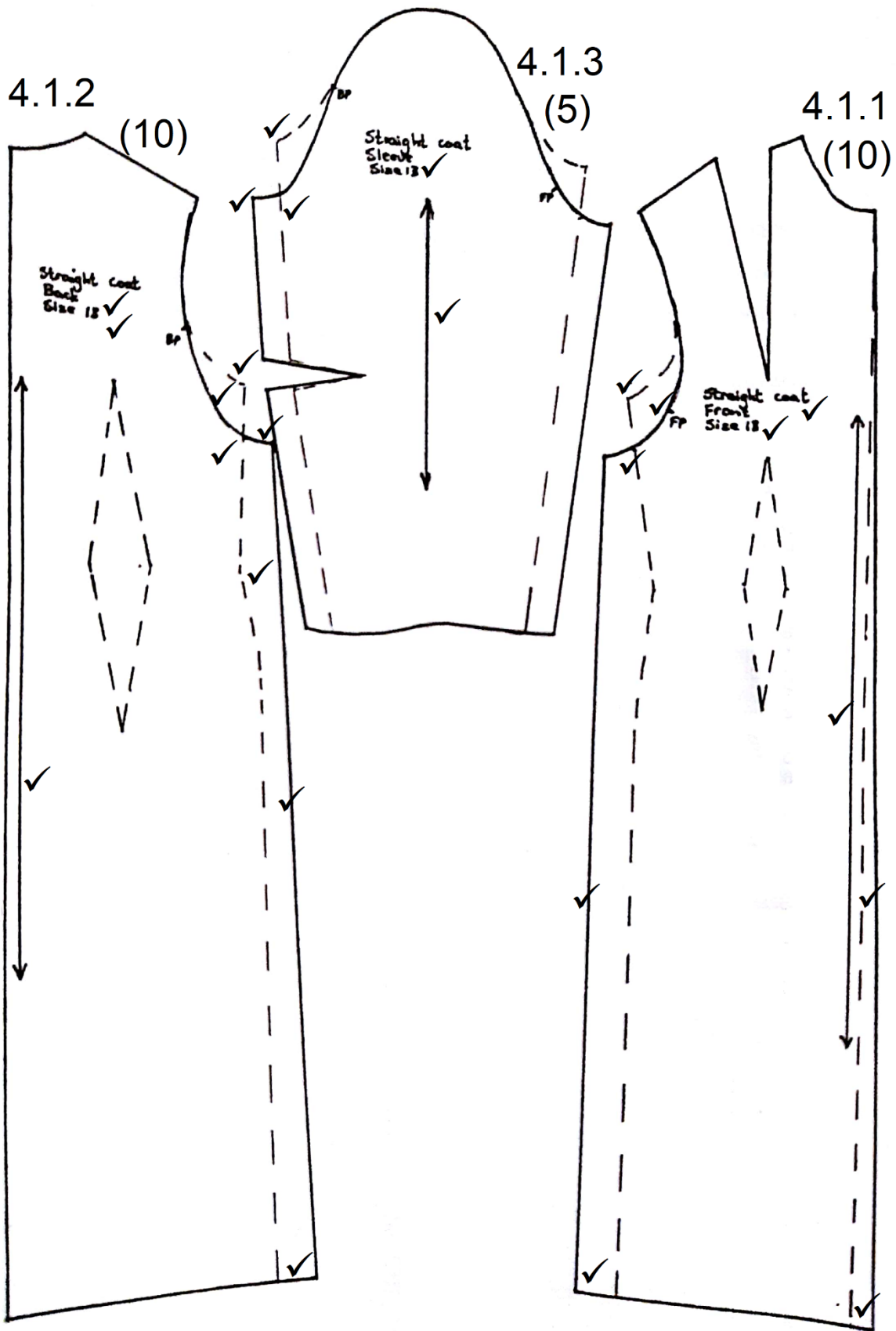
Men's shirt  
front ✓  
Size 38 ✓  
Cut 2x ✓

3.2

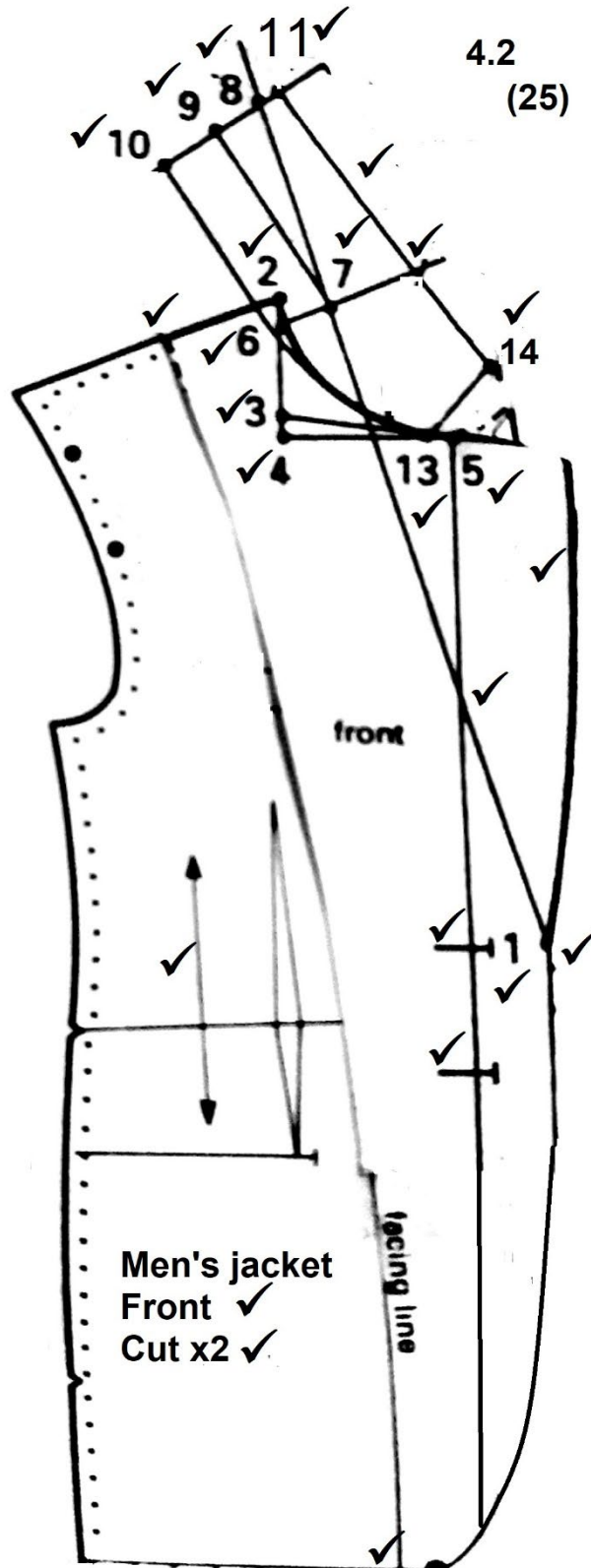
Button single strap ✓  
Cut 1 x ✓  
Size 38 ✓

[25]

VRAAG 4

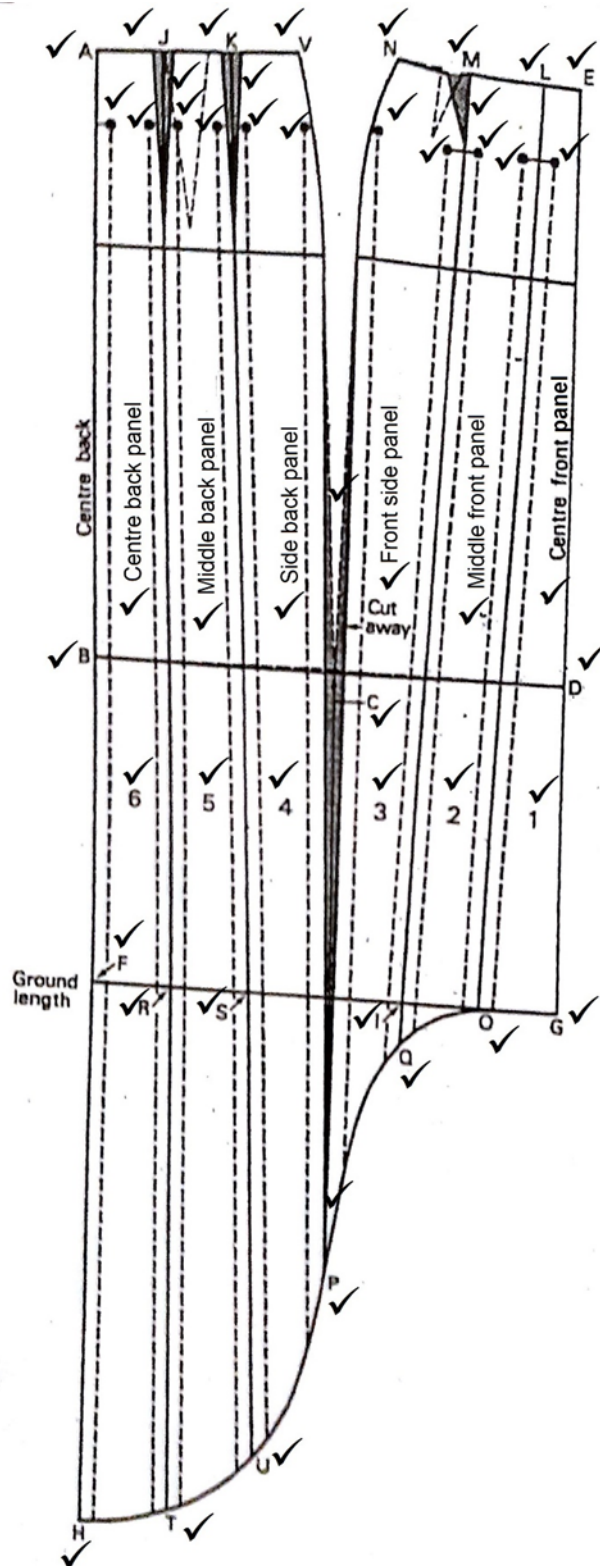


OR



[25]

VRAAG 5



[50]

TOTAAL AFDELING B: 150  
GROOTTOTAAL: 200